

Дорогие ребята!

Приглашаем вас принять участие

в конкурсе рисунков на тему дорожной безопасности

Конкурс проводится в рамках социального проекта
«Безопасные-дороги.рф»

Уважаемые родители! Сфотографируйте или отсканируйте
рисунок, зарегистрируйтесь и загрузите изображение
на сайт www.безопасные-дороги.рф
и примите участие в голосовании за лучшую работу.

Принять участие в конкурсе могут все желающие от 3 до 17 лет.



Победителей ждут призы:

- сертификаты
в магазин игрушек;
- участие в заезде
картингистов

и супер-приз:

- право проехать в качестве
штурмана в настоящем
гоночном автомобиле


Книга издана при поддержке Социального проекта
«Безопасные-дороги.рф» и Отдела пропаганды ГИБДД г. Екатеринбурга



- 1** Выбери знак, который означает, что здесь можно перейти дорогу. Нарисуй рядом с ним «зебру».



- 2** Какой светофор покажет тебе, можно или нельзя сейчас переходить дорогу? Раскрась его в тот цвет, который означает «можно идти».



- 7** Цифры означают, сколько ещё секунд будет гореть сигнал светофора. Если зеленый будет гореть ещё 30 секунд, можно идти, а если всего 3 секунды — лучше дождаться следующего зеленого сигнала.

- 8** Справа от мальчика находится спуск в подземный переход, по которому ему и стоит пересечь дорогу.

- 9** Вдоль дороги без тротуара следует идти по левой обочине (правильный вариант №1), то есть так, чтоб автомобили ехали тебе навстречу, а не обгоняли тебя — тогда ты будешь видеть приближающийся транспорт.

- 10** Пересекать перекресток по диагонали опасно. Правая стрелка указывает безопасный путь: сначала перейти одну из дорог, потом — вторую.

- 11** Сидя в машине, выходи через правую для тебя дверцу — так ты выйдешь на тротуар, а не на проезжую часть.

- 12** Этот участок дороги называют «островок безопасности», он предназначен для пешеходов, которые не успели перейти дорогу (2 вариант ответа — правильный).

- 13** Не стоит играть на проезжей части и тротуаре (рисунок сверху), так же как и на парковке (рисунок снизу), лучше делать это во дворе или на детской площадке (средний рисунок).

Ответы

1

Знак «Пешеходный переход» выглядит так:



2

Светофор для пешеходов (рисунок слева) состоит из двух секций — красной (знак «стой») и зеленой (знак «иди»).



3

Регулировщик слева (одна поднятая вверх рука) запрещает движение в любую сторону, регулировщик справа (руки разведены в стороны) разрешает двигаться тем, к кому он стоит боком.

4

Ждать трамвая нужно на тротуаре, если место посадки не приподнято над проезжей частью и не имеет ограждения.

5

Только мальчик, сидящий на заднем сиденье в автокресле, сел правильно. Дети не могут ехать в машине непристегнутыми, без детского кресла, и, тем более, за рулем.

6

Переходя дорогу, обязательно сначала посмотреть налево, потом – направо. Хотя обращать внимание на то, что впереди и под ногами, тоже не помешает.


3

Светофор, расположенный рядом с регулировщиком, разрешающим тебе движение, раскрась зеленым, а светофор запрещающего движение регулировщика — красным.



4

Нарисуй шарик в руке у того из ребят, кто ждет трамвай в правильном месте.



5

Кто из детей сел в автомобиль правильно, а кто нет? Напиши в облачках, какие ошибки совершили ребята.



13

Девочка хочет поиграть в «классики». Нарисуй «классики» там, где играть безопасно.



11

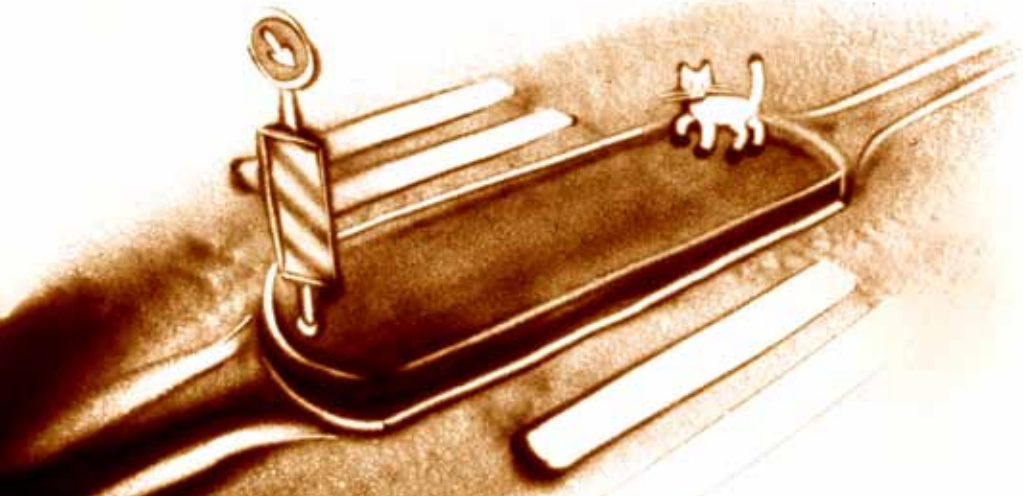
Мальчику, сидящему на заднем сиденьи, нужно выйти из машины. Где это сделать безопаснее — справа или слева? Нарисуй, как он выходит.



12

Для чего или кого предназначен этот участок?

1. Для стоянки мотоциклов
2. Для пешеходов, не успевших закончить движение через дорогу
3. Для торговых киосков
4. Для регулировщиков движения



6

Куда обязательно нужно посмотреть, когда переходишь дорогу? Облачко с правильным ответом раскрась голубым и добавь к нему солнышко. Облачка с неправильным ответом раскрась любым темным цветом и пририсуй дождик.

Прямо,
чтобы не сбиться
с пути

Направо,
потом – налево

Налево,
потом – направо

Под ноги,
чтоб не наступить
в лужу



7

Что значат цифры над сигналом светофора?

Стоит ли переходить дорогу, если горит зеленый и ты видишь такие цифры?



А такие?




8

Как перейти дорогу на этой картинке, если нигде поблизости нет «зебры»? Укажи мальчику путь стрелкой.



9

Если ты движешься вдоль дороги, не имеющей тротуара, где безопаснее всего идти? Раскрась зеленым кружок с цифрой, указывающей на безопасную зону.



10

Какая из стрелок указывает безопасный путь через перекресток? Раскрась её зеленым.

